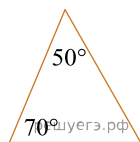
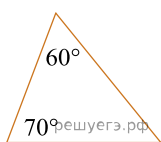


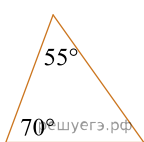
Укажите номер рисунка, на котором изображен равнобедренный треугольник.



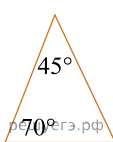
1)



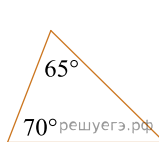
2)



3)



4)



5)

- 1) 1    2) 2    3) 3    4) 4    5) 5