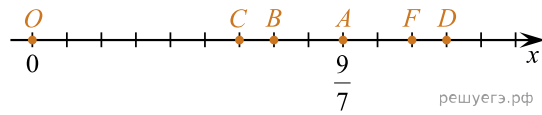


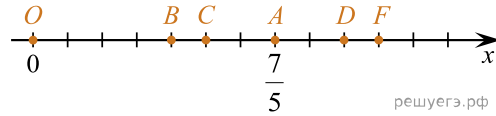
1. На координатной прямой отмечены точки O, A, B, C, D, F .



Если координата точки A равна $\frac{9}{7}$, то числу 1 на координатной прямой соответствует точка:

- 1) C 2) B 3) D 4) F 5) O

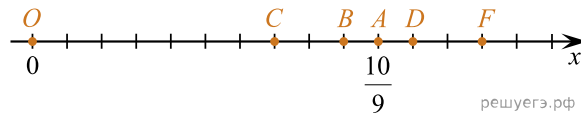
2. На координатной прямой отмечены точки O, A, B, C, D, F .



Если координата точки A равна $\frac{7}{5}$, то числу 1 на координатной прямой соответствует точка:

- 1) O 2) B 3) C 4) D 5) F

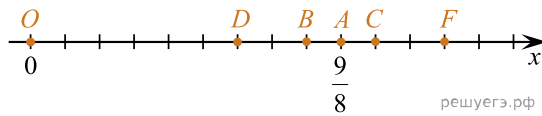
3. На координатной прямой отмечены точки O, A, B, C, D, F .



Если координата точки A равна $\frac{10}{9}$, то числу 1 на координатной прямой соответствует точка:

- 1) O 2) B 3) C 4) D 5) F

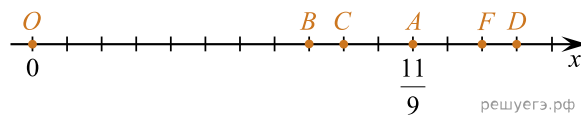
4. На координатной прямой отмечены точки O, A, B, C, D, F .



Если координата точки A равна $\frac{9}{8}$, то числу 1 на координатной прямой соответствует точка:

- 1) B 2) C 3) D 4) F 5) O

5. На координатной прямой отмечены точки O, A, B, C, D, F .



Если координата точки A равна $\frac{11}{9}$, то числу 1 на координатной прямой соответствует точка:

- 1) O 2) B 3) C 4) D 5) F